

ДЕМОНСТРАЦИОННЫЙ ВАРИАНТ
ИТОГОВОЙ КОНТРОЛЬНОЙ РАБОТЫ
ПО ОКРУЖАЮЩЕМУ МИРУ
1 КЛАСС

1. Отметь знаком что НЕ относится к природе.

река

бумага

жук

коза

луна

камень

2. Раскрась карточки с названиями объектов живой природы зелёным цветом, а неживой природы синим цветом.

щука

звезда

тигр

кошка

вода

тополь

воздух

3. Узнай время года по описанию. Отметь знаком .

*Природа просыпается. Ярче светит солнце. Тает снег.
Бегут ручьи. Птицы прилетают, вьют гнёзда.*

зима

весна

лето

осень

4. Какие времена года пропущены? Запиши.

Зима, _____, лето, _____.

5. Отметь знаком названия кустарников.

смородина

клубника

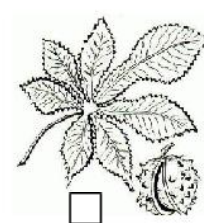
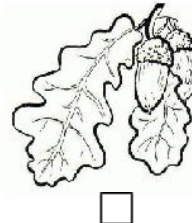
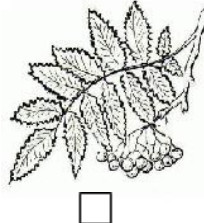
рябина

ромашка

малина

подорожник

6. Отметь знаком картинку, на которой изображён лист клёна.



7. В какой группе перечислены только хвойные растения? Отметь знаком .

лиственница, ель, осина

берёза, клён, тополь

сосна, ель, кедр

рябина, сосна, ель

8. К какой группе относятся животные: *щука, окунь, карась*?
Отметь знаком .

рыбы *насекомые* *звери* *птицы*


9. Отметь знаком дикорастущие растения.

яблоня *одуванчик* *рожь* *берёза* *репейник*

10. Найди и раскрась названия комнатных растений.

<i>сансевьера</i>	<i>сирень</i>	<i>бегония</i>	<i>пальма</i>	<i>ромашка</i>	<i>липа</i>
-------------------	---------------	----------------	---------------	----------------	-------------

11. Найди знак «пешеходная дорожка»? Раскрась этот знак.



12. Как ты думаешь, что означает этот знак? Ответ запиши.






13. Продолжи предложения.

Страна, в которой я живу - _____ .

Столица нашей страны – город _____ .

14. Найди государственный флаг нашей страны - России и раскрась его.



15. Напиши название профессии. Отметь знаком качества человека этой профессии.

доброта *честность* *смелость*
 мужество *мудрость* *трудолюбие*

16. Напиши, кем ты хочешь стать, когда вырастешь.
Почему?

**ДЕМОНСТРАЦИОННЫЙ ВАРИАНТ
ИТОГОВОЙ КОНТРОЛЬНОЙ РАБОТЫ
ПО ОКРУЖАЮЩЕМУ МИРУ
2 КЛАСС**

1. Какого месяца не хватает?

Август, сентябрь, _____, ноябрь

2. Укажи предмет живой природы.

А) планета Б) вода В) Солнце Г) дерево

3. Укажи, что относится к признакам осени?

А) жаркая погода

Б) цветение трав

В) листопад

Г) длинные дни, короткие ночи.

4. В какой группе перечислены только дикие животные?

А) оса, волк, бобр, заяц

Б) коза, индюк, лисица, медведь

В) овца, корова, курица, собака

Г) слон, кролик, жираф, пчела

5. Определи, кто не входит в группу птиц.

А) сорока Б) петух В) пчела Г) лебедь

6. Определи, кто не входит в группу зверей.

А) заяц Б) медведь В) гусь Г) корова

7. Для чего нужен термометр?

А) для определения сторон горизонта

Б) для определения температуры

В) для измерения длины

8. Укажи, что обозначает одно маленькое деление на термометре.

- А) один миллиметр Б) один шаг
В) один градус Г) один сантиметр

9. Подчеркни одной чертой названия планет.

А) Солнце, Б) Луна, В) Марс, Г) Венера, Д) Юпитер, Е) Сатурн, Ж) Земля.

10. Допиши предложения.

Название нашей страны – _____.

Государственный язык в России – _____.

11. Соедини слово с его определением.

Погода... река переполняется водой и выходит из берегов

Половодье ... все изменения, происходящие в природе

Ледостав... сочетание температуры воздуха, облачности, осадков, ветра

Заморозки... лёд тает. Льдины плывут по течению, сталкиваются, разбиваются

Явления природы... времена года

Сезоны ... лёгкий мороз

Ледоход... реки покрываются льдом

ДЕМОНСТРАЦИОННЫЙ ВАРИАНТ
ИТОГОВОЙ КОНТРОЛЬНОЙ РАБОТЫ
ПО ОКРУЖАЮЩЕМУ МИРУ
3 КЛАСС

1. Установи соответствие. Соедини линиями.

НЕЖИВАЯ ПРИРОДА	животные
	звёзды
ЖИВАЯ ПРИРОДА	человек
	туман
	горы
	растения

2. Допиши определение.

Глобус - это

3. В какой строчке указаны только вещества? Обведи нужную букву.

- а) алюминий, железо, медь;
- б) алюминий, кастрюля, железная кочерга, медный таз;
- в) кусок сахара, ножницы, кристалл соли.

4. Какие вещества входят в состав воздуха? Обведи кружком все буквы правильных ответов.

- а) кислород;
- б) водород;
- в) азот;
- г) углекислый газ.

5. В стакан с водой опустили ложку. Ложка хорошо видна. Какое свойство воды в этом проявилось? Обведи кружком нужную букву.

- а) воды нет в стакане;
- б) вода прозрачна;
- в) вода бесцветна.

6. Напиши названия групп перечисленных животных. Используй слова для справок:

Дождевой червь, пиявка - это _____.

Речной рак, краб, креветка - это _____.

Морская звезда, морской ёж, морская лилия - это _____.

Паук, скорпион, сенокосец - это _____.

Ящерица, змея, крокодил, черепаха - это _____.

Слова для справок: *иглокожие, ракообразные, паукообразные, пресмыкающиеся, черви.*

7. Обведи кружком все буквы правильных ответов.

Укажи неверное высказывание.

- Вода прозрачна.
- Вода бесцветна.
- При нагревании вода расширяется.
- Вода имеет запах.
- При охлаждении вода сжимается.
- а) Солнце - это ближайшая к нам звезда.
- б) Солнце обращается вокруг Земли.
- в) Солнце - это планета.
- г) Все планеты обращаются вокруг Солнца.
- д) В Солнечной системе 8 планет.
- е) Луна - это планета Солнечной системы.
- ж) Солнце - это источник света и тепла для всего живого на Земле.
- з) В Солнечной системе 9 планет.

8. Вспомни названия органов чувств и напиши соответствующее слово в каждой паре:

зрение - _____

осязание - _____

обоняние - _____

вкус- _____

слух- _____

9. Заполни таблицу.

Материки	Части света

10. Подпиши названия указанных органов. Ниже напиши название системы.